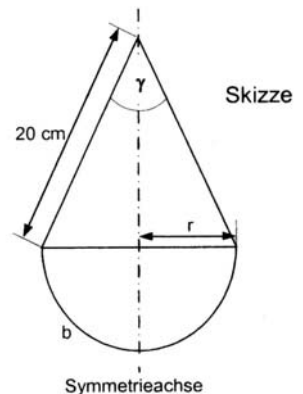


Abschlussprüfung 2004 - Aufgabengruppe II

Die zusammengesetzte Fläche besteht aus einem gleichschenkligen Dreieck und einem Halbkreis. Die Dreiecksschenkel schließen den Winkel γ ein (Maße siehe Skizze).

- Wie groß ist der Winkel γ , wenn der Halbkreisbogen eine Länge von 19 cm hat?
- Wenn sich die Gesamtfigur um ihre Symmetrieachse dreht, entsteht ein Rotationskörper. Berechnen Sie die Oberfläche dieses Körpers. (Rechnen Sie mit $r = 6,1$ cm.)
- Berechnen Sie den Radius r und den Winkel γ so, dass bei einer Schenkellänge von 20 cm die Flächeninhalte des Dreiecks und des Halbkreises gleich groß sind.

Hinweise: Rechnen Sie mir $\pi = 3,14$
Runden Sie alle Endergebnisse auf eine Dezimalstelle.



a) Winkel γ

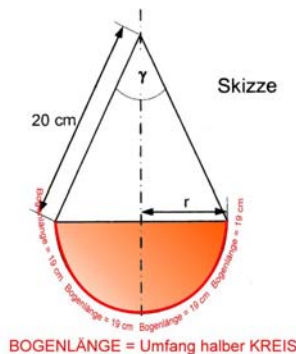
► Radius des Kreises

$$u_K = d \cdot \pi$$

$$19 \cdot 2 = 2 \cdot r \cdot \pi / : 3,14 / :$$

$$2$$

$$6,1 \text{ cm} = r$$

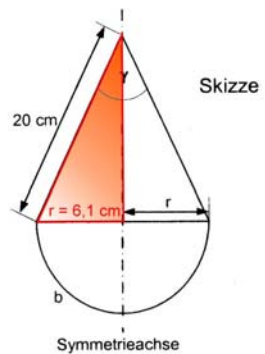


► Winkel γ

$$\sin \gamma = \frac{6,1 \text{ cm}}{20 \text{ cm}}$$

$$\gamma = 17,8^\circ \cdot 2 =$$

$$\underline{\underline{35,6^\circ}}$$



b) Oberfläche des Rotationskörpers

► Oberfläche Halbkugel

$$O_K = 4 \cdot r^2 \cdot \pi : 2$$

$$O_K = 4 \cdot 6,1^2 \cdot 3,14 : 2$$

$$\underline{\underline{O_K = 233,7 \text{ cm}^2}}$$

► Mantel Kegel

$$M = r \cdot \pi \cdot s$$

$$M = 6,1 \cdot 3,14 \cdot 20$$

$$\underline{\underline{M = 383,1 \text{ cm}^2}}$$

► Gesamt

$$O = 383,1 \text{ cm}^2 + 233,7 \text{ cm}^2$$

$$\underline{\underline{O = 616,8 \text{ cm}^2}}$$

c) Radius und Winkel so, dass beide Flächeninhalte gleich groß sind.

Formel für den Flächeninhalt des Halbkreises: $A_1 = r^2 \cdot \pi \cdot 0,5$ (oder : 2)

Formel für die Fläche des Dreiecks: $A_2 = \frac{2 \cdot r \cdot h}{2}$

Beide Flächen müssen gleich groß sein: $A_1 = A_2$. Es ergeben sich die zwei Unbekannten r und h . Somit braucht man ein Gleichungssystem.

Gleichungssystem

I. Beide Flächeninhalte gleichsetzen

$$r^2 \cdot 3,14 \cdot 0,5 = \frac{2 \cdot r \cdot h}{2}$$

$$1,57r^2 = r \cdot h$$

II. Radius und Höhe über den Pythagoras

$$h^2 = 20^2 - r^2 \quad | \sqrt{\quad}$$

$$h = \sqrt{400 - r^2}$$

Einsetzen: II in I

$$1,57r^2 = r \cdot \sqrt{400 - r^2} \quad | : r$$

$$1,57r = \sqrt{400 - r^2} \quad | ^2$$

$$2,4649r^2 = 400 - r^2 \quad | + r^2$$

$$3,4649r^2 = 400 \quad | : 3,4649$$

$$r^2 = 115,4434 \quad | \sqrt{\quad}$$

$$\underline{\underline{r = 10,7 \text{ cm}}}$$

Winkel γ

$$\sin \gamma = \frac{10,7 \text{ cm}}{20 \text{ cm}}$$

$$\gamma = 32,34^\circ \cdot 2 = \underline{\underline{64,7^\circ}}$$

Antwort: Der Radius beträgt dann 10,7 cm und der Winkel γ ist 64,7°.